




Je cherche avec mes copains



5 Juliette veut partager équitablement 20 jetons ● en 3 groupes.



Au fur et à mesure, dessine les jetons ● dans chaque groupe.

Complète.

Dans chaque groupe, il y a 6 jetons ●.

Il reste 2 jetons ● qu'on ne peut pas partager.




Le petit détective



6 Tom a 10 balles ● qui sont bleues, vertes ou roses.

A-t-il autant de balles ● de chaque couleur ?

Colorie les balles ● de Tom.



Écris la réponse.

Tom ne peut pas avoir autant de balles de chaque couleur.
Au maximum, il peut avoir 2 groupes de 3 balles de même couleur.

Tu ne pourras pas colorier toutes les balles ●.



Prendre 18 cuillères ou d'autres petits objets et 6 assiettes.

À tour de rôle, choisir un nombre d'assiettes (entre 1 et 6), par exemple 5.

L'autre joueur doit partager équitablement les cuillères dans les assiettes.

Dans ce cas, il doit mettre 3 cuillères dans chacune des 5 assiettes et il reste 3 cuillères.